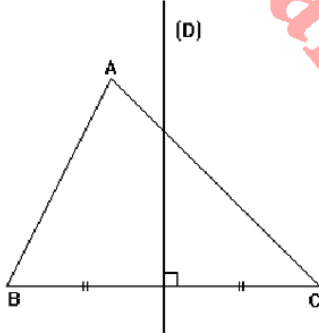


## I\_ واسطات مثلث :

(1) – التعريف :

واسط مثلث هو واسط أحد أضلاعه

(2) – مثال :



ABC مثلث و المستقيم (D) واسط الضلع [BC] .

نسمي كذلك المستقيم (D) واسط المثلث ABC .

(3) – مركز الدائرة المحيطة بمثلث :

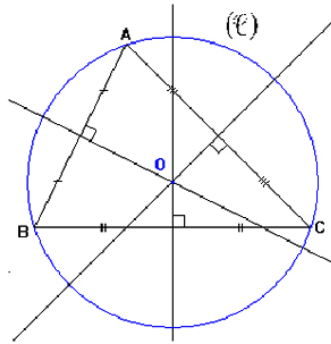
\* تعريف :

مركز الدائرة المحيطة بمثلث هي نقطة تلاقي واسطاته

\* مثال :

ABC مثلث .

لننشئ (C) الدائرة المحيطة بالمثلث ABC. من أجل هذا سننشئ واسطات هذا المثلث بحيث تتلاقى في نقطة واحدة O هي مركز الدائرة المحيطة به .



\* ملاحظة هامة : لتحديد مركز الدائرة المحيطة بمثلث يكفي رسم واسطين من واسطاته .

II\_ منصفات مثلث :

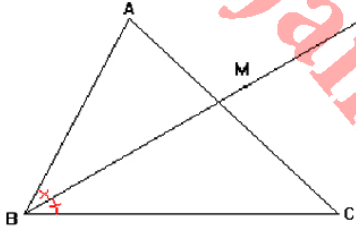
لمزيد من الشروحات و التمارين زوروا: [jami3dorosmaroc.com](http://jami3dorosmaroc.com)

(1) – التعريف :

منصف مثلث هو منصف إحدى زواياه

(2) – مثال :

ABC مثلث و [BM] منصف الزاوية  $\hat{A}BC$  .



نسمي نصف المستقيم [BM] منصف المثلث ABC .

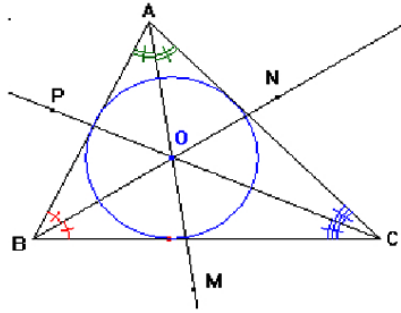
(3) – مركز الدائرة المحاطة بمثلث :

\* تعريف :

مركز الدائرة المحاطة بمثلث هي نقطة تلاقي منصفاته

\* مثال :

ABC مثلث .  
لننشئ الدائرة المحاطة بالمثلث ABC . من أجل هذا سننشئ منصفات هذا المثلث بحيث تتلاقى في نقطة واحدة O هي مركز الدائرة المحاطة به .



\* ملاحظة هامة : لتحديد مركز الدائرة المحاطة بمثلث يكفي رسم منصفين من منصفاته .

III \_ إرتفاعات مثلث :

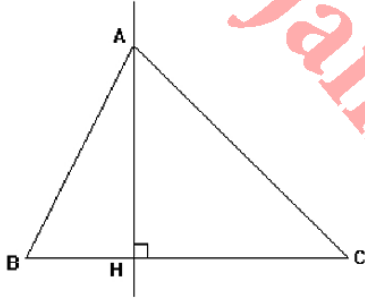
لمزيد من الشروحات و التمارين زوروا: [jami3dorosmaroc.com](http://jami3dorosmaroc.com)

(1) – التعريف :

إرتفاع مثلث هو مستقيم يمر من أحد رؤوس المثلث و العمودي على حامل الضلع المقابل لهذا الرأس

(2) – مثال :

ABC مثلث و (AH) المستقيم المار من A والعمودي على حامل الضلع (BC) في H .



نسمي (AH) إرتفاع المثلث ABC الموافق للضلع [BC] .

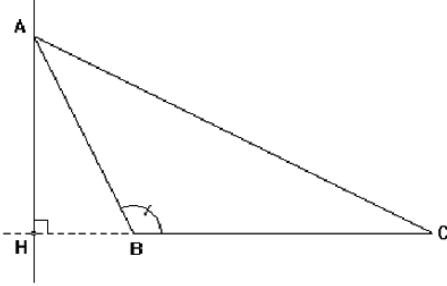
\* ملاحظة هامة :

يمكننا أن نرمز كذلك للإرتفاع (AH) بإحدى الرمزين : [AH] أو AH

\* حالة خاصة :

ABC مثلث بحيث  $\hat{A}BC$  زاوية منفرجة .

نلاحظ أن النقطة H لا تنتمي إلى الضلع [BC] .



(3) – مركز تعامد مثلث :

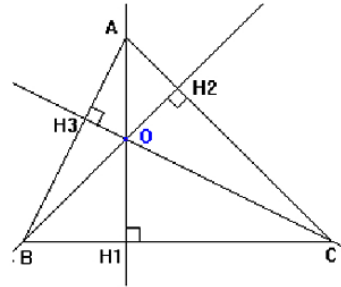
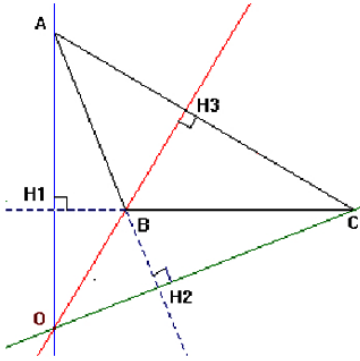
\* تعريف :

مركز تعامد مثلث هو نقطة تلاقي إرتفاعاته

\* مثال :

ABC مثلث .

لننشئ O مركز تعامد المثلث ABC . من أجل هذا سننشئ إرتفاعات هذا المثلث بحيث تتلاقى في نقطة واحدة هي مركز تعامده .



IV\_ متوسطات مثلث :

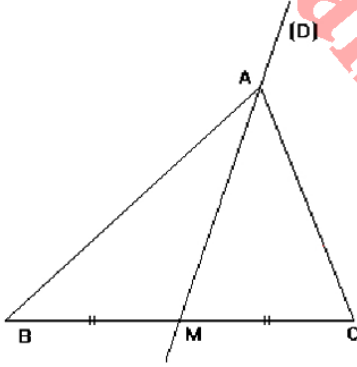
لمزيد من الشروحات و التمارين زوروا: [jami3dorosmaroc.com](http://jami3dorosmaroc.com)

(1) – التعريف :

متوسط مثلث هو مستقيم يمر من أحد رؤوس المثلث و منتصف الضلع المقابل لهذا الرأس

(2) – مثال :

ABC مثلث و (D) المستقيم المار من A و من منتصف [BC].



نسمي المستقيم (D) متوسط المثلث ABC .

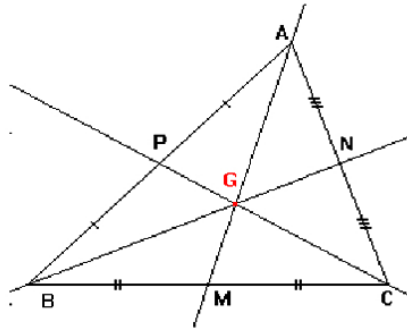
(3) – مركز ثقل مثلث :

\* تعريف :

مركز ثقل مثلث هي نقطة تلاقي متوسطاته

\* مثال :

ABC مثلث.  
لننشئ G مركز ثقل المثلث ABC . من أجل هذا سننشئ متوسطاته بحيث تتلاقى في نقطة واحدة هي مركز ثقله .



\* خاصية :

إذا كان ABC مثلث و G مركز ثقله بحيث M منتصف [BC] فإن :

$$AG = AM \frac{2}{3}$$

لمزيد من الشروحات و التمارين زوروا: [jami3dorosmaroc.com](http://jami3dorosmaroc.com)